

IMIĘ I NAZWISKO UCZESTNIKA

DZIAŁANIA

8+	90×		8+	5÷	
				90×	8+
B	48×	5÷			A
			3×	40×	1-
7+	24×			D	
	C	2÷			

24×	2×		2÷		8+
	1-	20×			
		120×			6+
10×	180×		D	3÷	
	4×				7+
13+			7+		
			B		

Podaj cyfry umieszczone w oznaczonych polach.

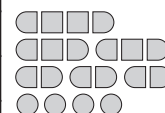
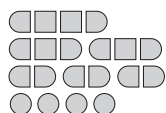
A	B	C	D

A	B	C	D

SAPER NA MORZU

	2			0	0				
	3	D	1					0	0
			2		1	0	0		0
1			4		3	1	0		
	2		C			1	1		0
	A		1	2	4	3	2		2
2			0				2		2
	1	1							1
0		0		0	0				0
		0				0		0	0
			2		2	2			0
	0	1					B		

		0		0	1			0		
0				1			1			1
		0	1		2	1		0	0	2
0		0	1	1	1	1			1	
	0			1	0					3
0		1					3	3		2
	0									1
	0		0		0		C			1
1						1	2		3	B
			0				3		4	1
		0				3				1
1				1		D			2	



Jeśli na oznaczonym polu jest statek, wpisz "1". W przeciwnym przypadku postaw "0".

A	B	C	D

A	B	C	D

WĘZE SAPERA

1	3						
			5	3		5	
1 ₂				1			
			B			1 ₂	
							1
C	1 ₃					4	D
		1	2			5	
1	1	A					

1	B			1 ₂			D
	5					1 ₃	
					A		
		5					
3			1 ₁	2	3		1 ₂
3		C					
				3	4		
2							3

Jeśli oznaczone pole jest zamalowane, wpisz "1". W przeciwnym przypadku postaw "0".

A	B	C	D

A	B	C	D

WIEŻE

B			10			
11	7	11		7	12	D
6		7	8		8	2
	8		12			
					C	4
12	9			8		
		A	11	6	11	

4	D		9			2
	4		8	4		
9	8	C		6		B
8					3	3
		8	9	6		
	6	9		A		
7	4				3	4

Jeśli oznaczone pole jest zamalowane, wpisz "1". W przeciwnym przypadku postaw "0".

A	B	C	D

A	B	C	D

IMIĘ I NAZWISKO UCZESTNIKA

TRATWY

						6		C	
		4							
			1					3	
2		1					D		1
			A						
	4								
									8
	8		B			6			
				1			1		

6			D				2		4
				4				1	
	C								6
			2						
	6								
					8				
			B	3				9	
2						1			
		3					A		

Jeśli oznaczone pole jest zamalowane, wpisz "1". W przeciwnym przypadku postaw "0".

A	B	C	D

A	B	C	D

WIELOKROPKA

•	•	•	•	•	•	•	•	•	•	•	•	•	•	•
			C	3			1							
2	3					1	1	3		A				
2						2								
2	2					2	1	2						
D		2				0	2			3				
						2	3	1		1				
						1	2	1		2				
2	2	2	1			B								

•	•	•	•	•	•	•	•	•	•	•	•	•	•	•
3	2	2	2				D	2	2					
								2		3				
							B							
2	2	1				1	2	2	0					
3						2		2	1	3				
1	2					1	2	2				C		
						2	0		1					
2	1	3	2			A								
						1				1				

Podaj liczbę linii otaczających oznaczone pole.

A	B	C	D

A	B	C	D

IMIĘ I NAZWISKO UCZESTNIKA

--

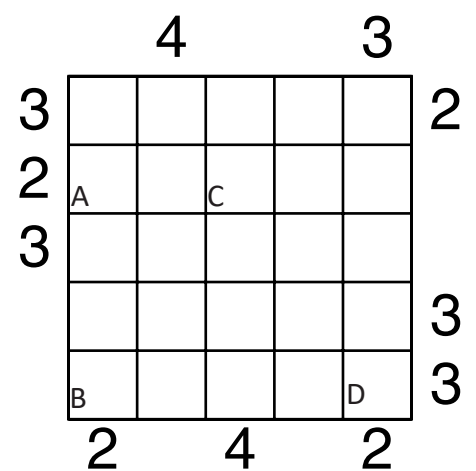
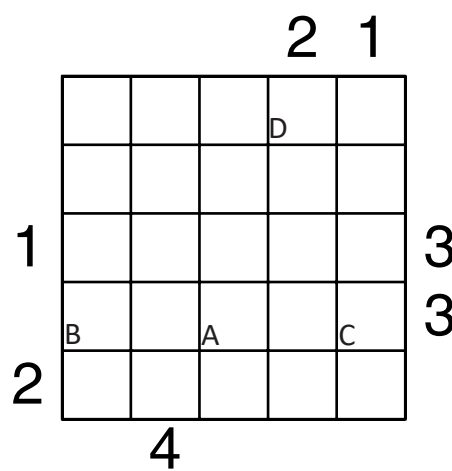
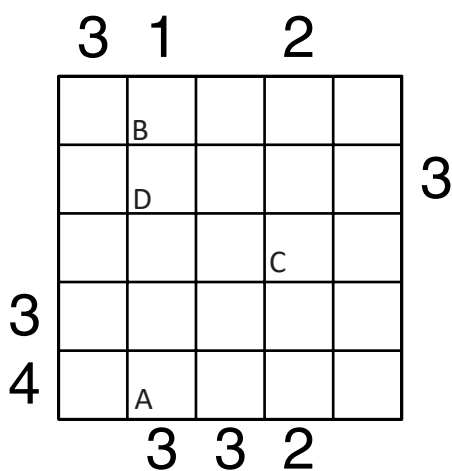
OD 0 DO 9

2				4	0	6		7	
1		5							
	7	1						6	3
9	8	2	3				4		7
14	22	17	7	19	23	19	22	22	15

Wpisz liczby z zaznaczonych pól.

A	B	C	D

PIRAMIDY



Podaj cyfry umieszczone w oznaczonych polach.

A	B	C	D

A	B	C	D

A	B	C	D

ŁAMIGŁÓWKA ARCHITEKTA

	5	3	3	3	5	2	6	0	7	0	7
4	🏠		A	🏠				🏠	D	🏠	
1	🏠						🏠				🏠
5									🏠		
1			🏠		🏠						
4		🏠	🏠			🏠		🏠	🏠	🏠	
1			🏠							🏠	🏠
4								🏠			
1		🏠	🏠		🏠						
4			🏠		🏠	B		🏠	🏠		
1									C		
4			🏠					🏠			
1	🏠										🏠
4		🏠	🏠							🏠	🏠
1			🏠		🏠		🏠	🏠			
5		🏠	🏠				🏠				

	6	1	5	1	6	0	7	0	8	0	7
5								🏠	🏠		
1	🏠		🏠	🏠			🏠		🏠		🏠
4		🏠		D	🏠						🏠
2	🏠		🏠						🏠		
3								🏠			
2											🏠
2			🏠		🏠			🏠			
2			🏠								
3	🏠					🏠				🏠	
2	🏠			🏠							🏠
3								🏠		🏠	
3			🏠		🏠				🏠		🏠
3	🏠			B							🏠
1		C	🏠		🏠	🏠	A		🏠		🏠
5		🏠	🏠					🏠			

Jeśli w polu stoi zbiornik, wstaw "1". W przeciwnym przypadku wstaw "0".

A	B	C	D

A	B	C	D

KRZYŻÓWKI LICZBOWE

	21	17			26	14
16			16		10	
10		C		11		
20				18		A
4				17		
	7		9		13	
			12			
	14	19			27	4
36		D			B	
6				11		
			3		13	
	9			10		
16						14
15				14		
9					16	

		12	8	11		
	24					45
	20					22
8	3				12	
	D		17			
11					15	
					6	C
	16				4	
				10		
	19	21				21
4				7		
16					17	
14			9		18	
				16		
	24					
		B			A	
	20					

Podaj cyfry umieszczone w oznaczonych polach.

A	B	C	D

A	B	C	D