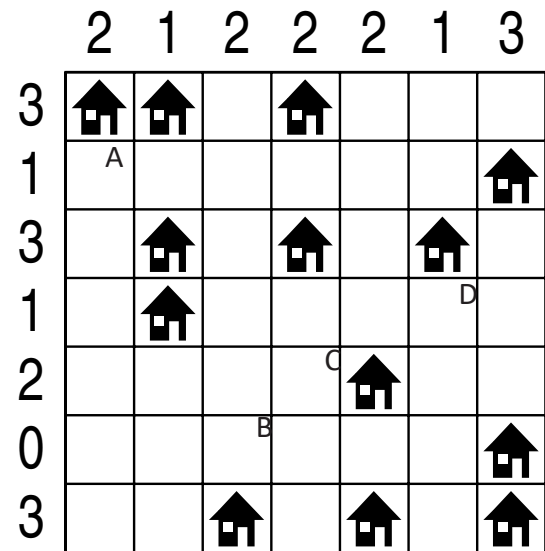
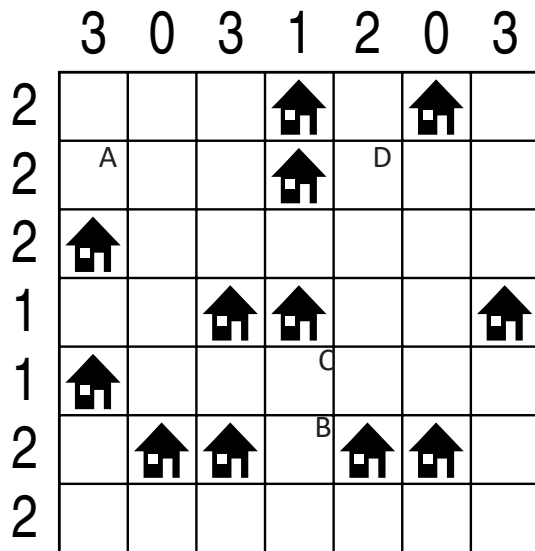


IMIĘ I NAZWISKO UCZESTNIKA

ARCHITEKT

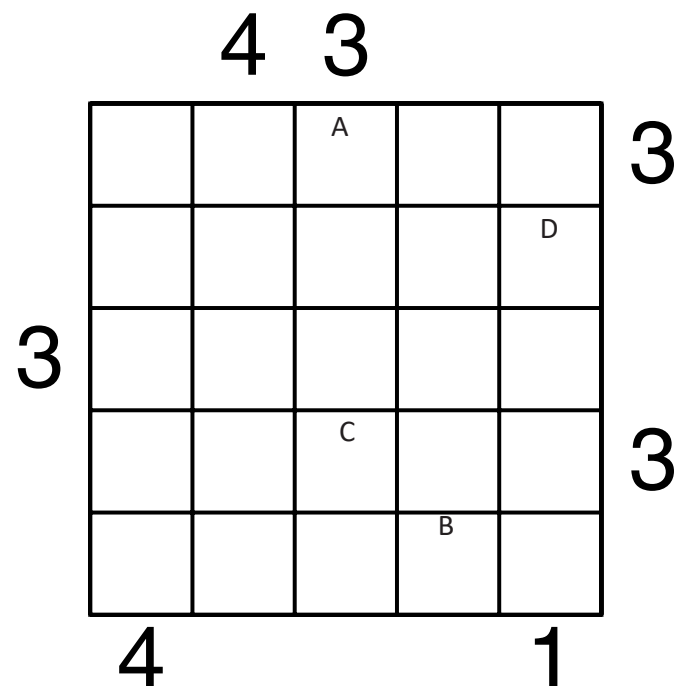
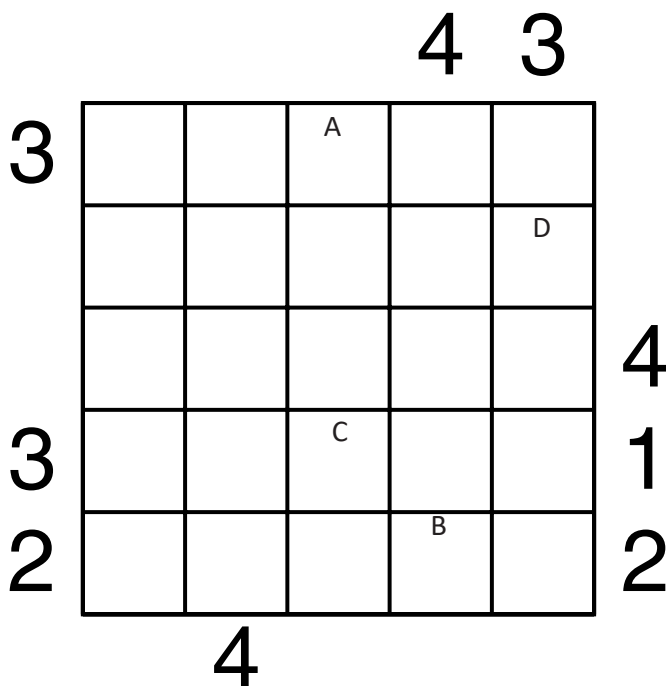


Jeśli w polu stoi zbiornik, wstaw "1". W przeciwnym przypadku wstaw "0".

A	B	C	D

A	B	C	D

PIRAMIDY



Podaj cyfry umieszczone w oznaczonych polach.

A	B	C	D

A	B	C	D

LATARNIE

2						B			
			D						
	3								C
					1				
							2		
					0				1
				0		1			
		1							
A					1		1		

		B			6				
	C		4				5		2
							3		
A									
			2						2
4									
				2				D	
									3

Jeśli na oznaczonym polu jest statek, wpisz "1". W przeciwnym przypadku postaw "0".

A	B	C	D

A	B	C	D

OD 0 DO 9

W puste pola wpisz liczby od 0 do 9, tak aby każdy wiersz zawierał dziesięć różnych liczb - w kolumnach liczby mogą się powtarzać.

Pola z takimi samymi liczbami nie mogą stykać się bokiem ani rogiem.

Pod diagramem podano sumy liczb w kolumnach.

		5			D	A		8	
B	0		1		C	4		9	6
10	6	7	4	17	4	8	13	13	8

9	1			4		3	A		2
			C	5		0	B		D
17	8	9	5	6	8	12	11	8	6

Wpisz liczbę z oznaczonego pola.

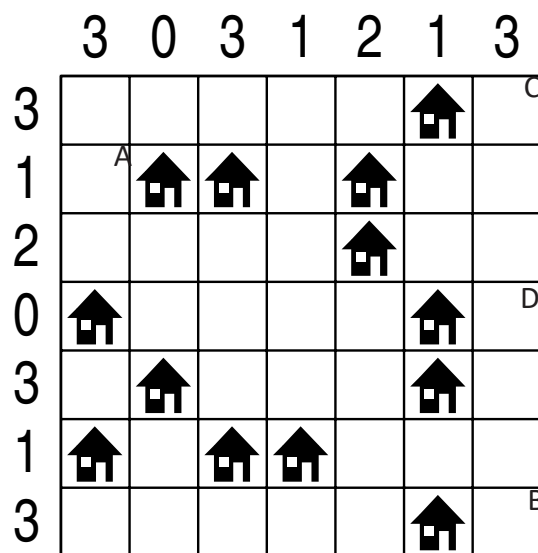
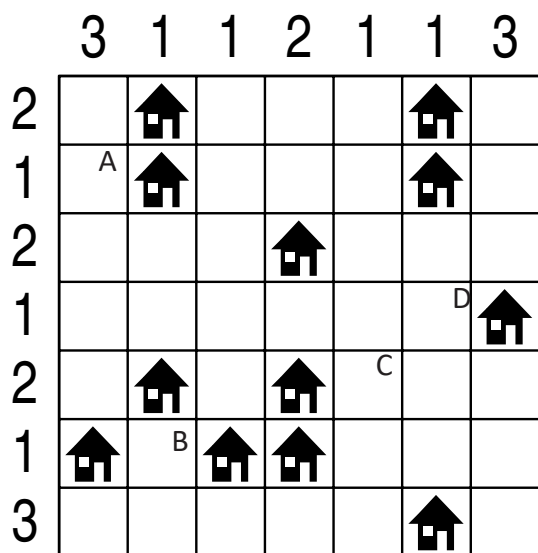
A	B	C	D

Wpisz liczbę z oznaczonego pola.

A	B	C	D

IMIĘ I NAZWISKO UCZESTNIKA

ARCHITEKT

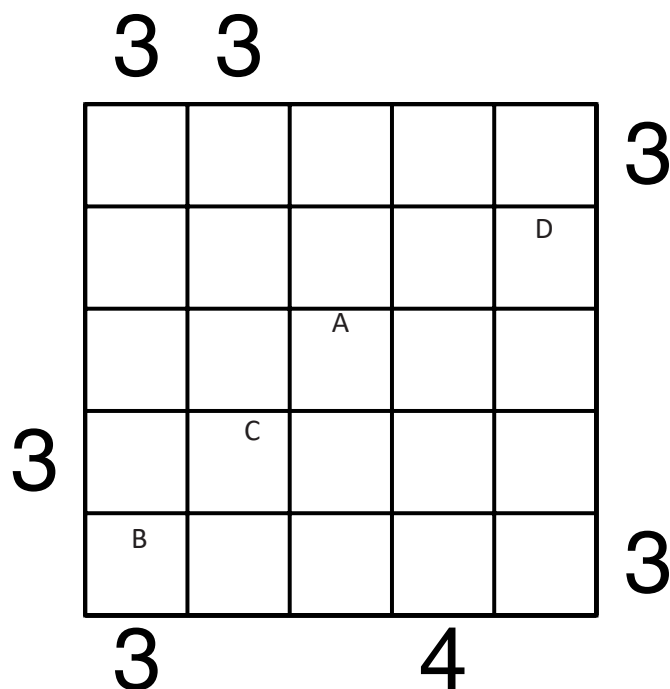
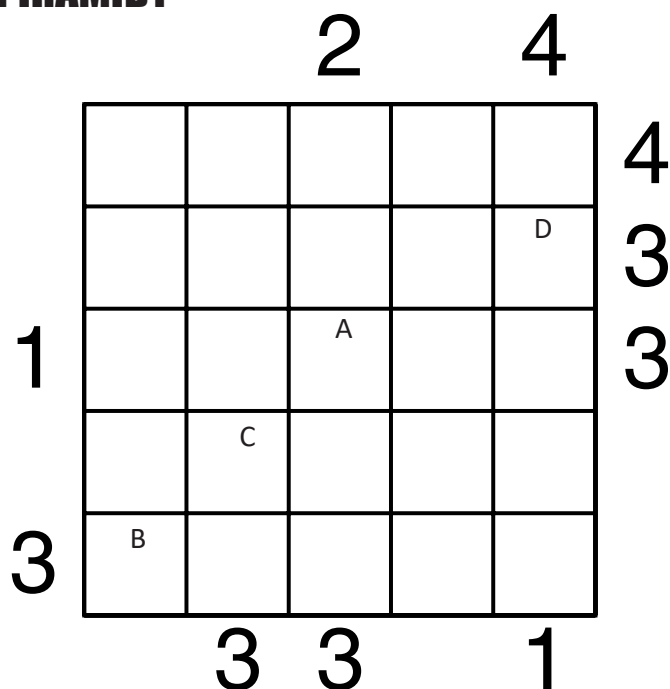


Jeśli w polu stoi zbiornik, wstaw "1". W przeciwnym przypadku wstaw "0".

A	B	C	D

A	B	C	D

PIRAMIDY



Podaj cyfry umieszczone w oznaczonych polach.

A	B	C	D

A	B	C	D

LATARNIE

1			B						
					5				
1								C	
1		4		D				1	
						3			
1		4		4					
2									
					A				3

							2		
2	C								
					0				1
3									
					1				
		1		1					D
						1			
	1							A	
					2		B		

Jeśli na oznaczonym polu jest statek, wpisz "1". W przeciwnym przypadku postaw "0".

A	B	C	D

A	B	C	D

OD 0 DO 9

W puste pola wpisz liczby od 0 do 9, tak aby każdy wiersz zawierał dziesięć różnych liczb - w kolumnach liczby mogą się powtarzać.

Pola z takimi samymi liczbami nie mogą stykać się bokiem ani rogiem.

Pod diagramem podano sumy liczb w kolumnach.

	8		3	9	4		2	D	
0			B		A		3		C
6	12	12	11	15	6	4	9	6	9

	5			A				D	9
4		3	0		B	C	5	7	
11	11	4	8	12	14	1	7	11	11

Wpisz liczbę z oznaczonego pola.

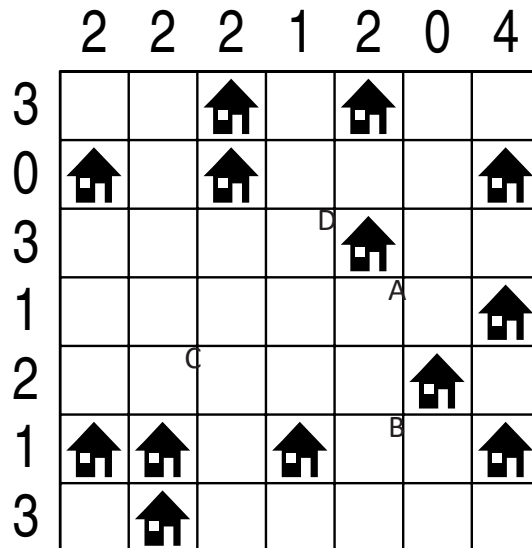
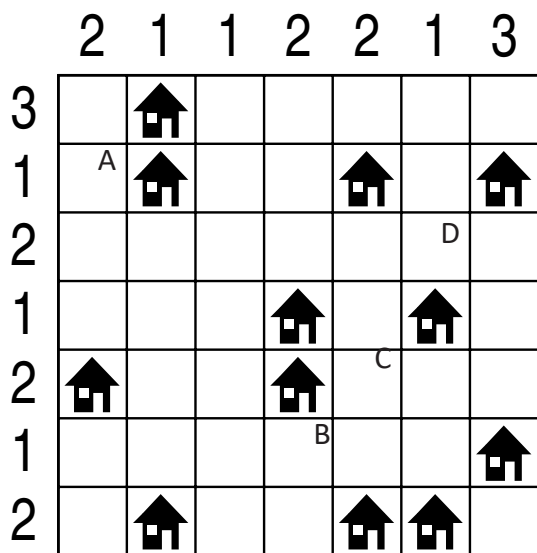
A	B	C	D

Wpisz liczbę z oznaczonego pola.

A	B	C	D

IMIĘ I NAZWISKO UCZESTNIKA

ARCHITEKT

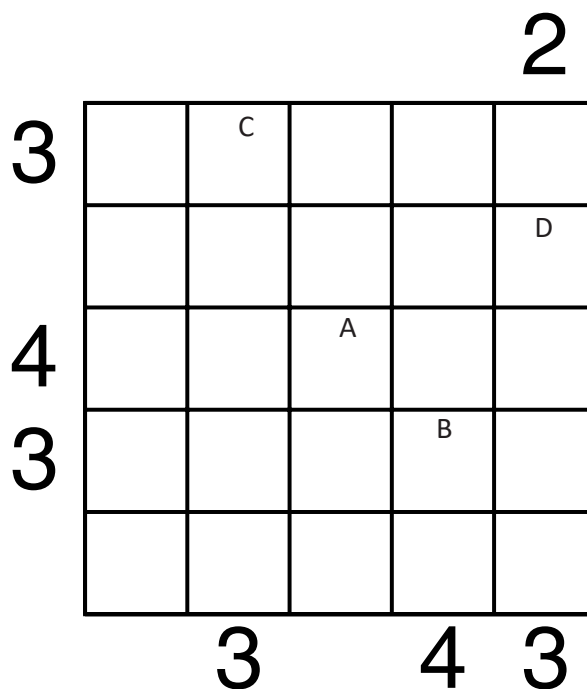
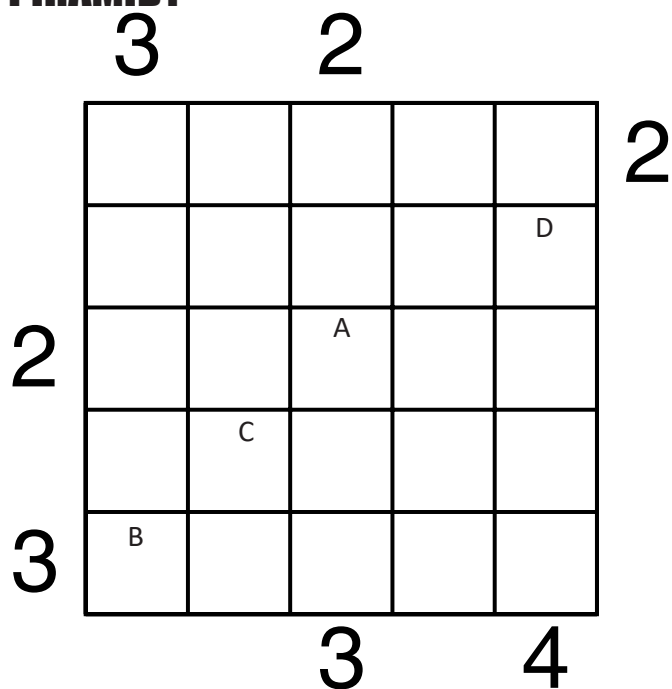


Jeśli w polu stoi zbiornik, wstaw "1". W przeciwnym przypadku wstaw "0".

A	B	C	D

A	B	C	D

PIRAMIDY



Podaj cyfry umieszczone w oznaczonych polach.

A	B	C	D

A	B	C	D

LATARNIE

	B			1					
							3		
			C						
0						2			
				3					
									A
	1								
							D		
		0							
1				2					2

						B		2	
			C						1
							2		
	2								
						3			A
	1								
			5				D		2
3									3

Jeśli na oznaczonym polu jest statek, wpisz "1". W przeciwnym przypadku postaw "0".

A	B	C	D

A	B	C	D

OD 0 DO 9

W puste pola wpisz liczby od 0 do 9, tak aby każdy wiersz zawierał dziesięć różnych liczb - w kolumnach liczby mogą się powtarzać.

Pola z takimi samymi liczbami nie mogą stykać się bokiem ani rogiem.

Pod diagramem podano sumy liczb w kolumnach.

A			3		0	D	1		7
	B	9		C					6
7		1	8	3	0	9	6		
12	19	15	13	18	5	22	10	4	17

5			A	7		0	D	3	
		2		8				1	3
3	7			2	0		C	4	8
12	13	19	18	11	9	12	12	11	18

Wpisz liczbę z oznaczonego pola.

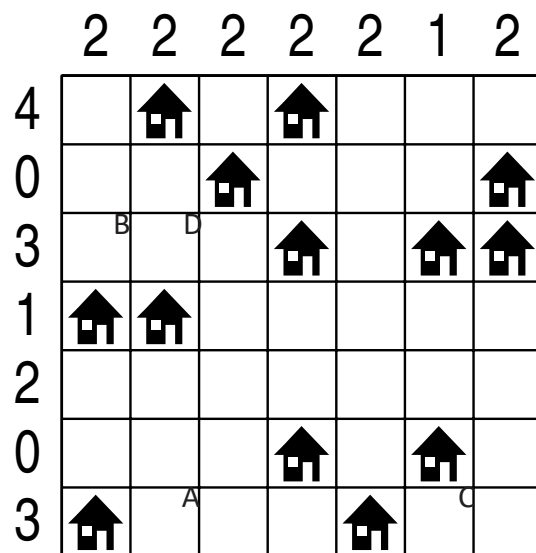
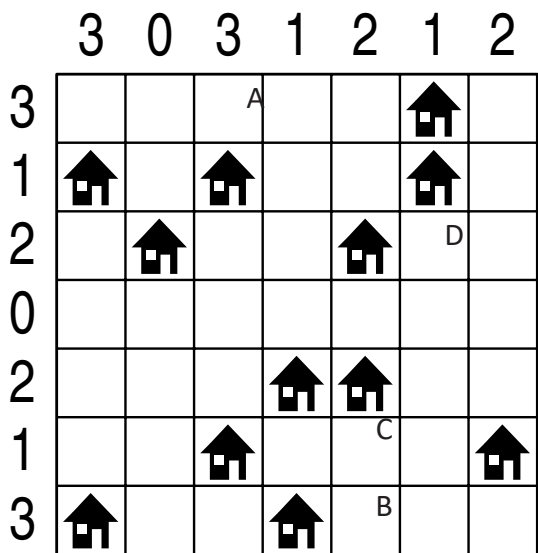
A	B	C	D

Wpisz liczbę z oznaczonego pola.

A	B	C	D

IMIĘ I NAZWISKO UCZESTNIKA

ARCHITEKT

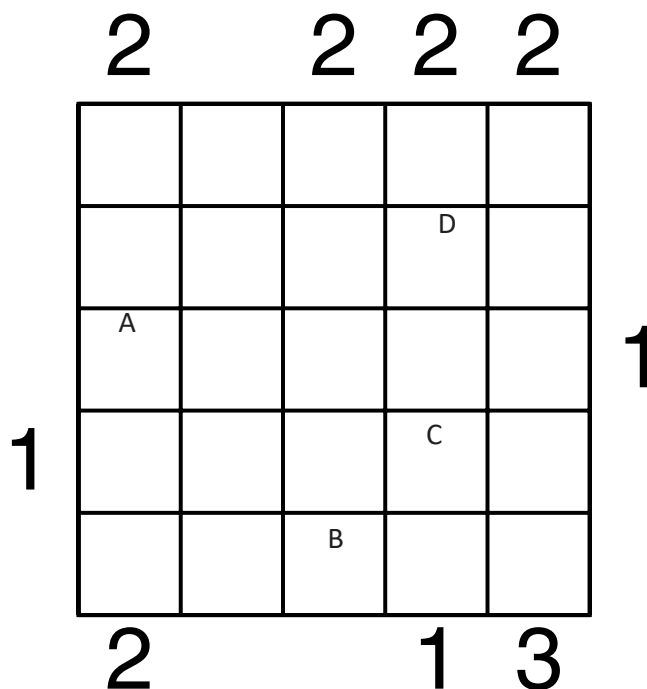
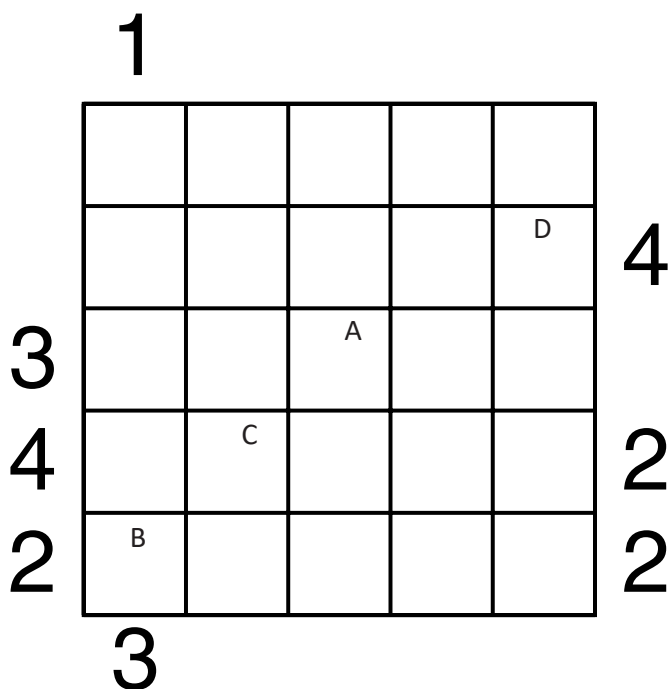


Jeśli w polu stoi zbiornik, wstaw "1". W przeciwnym przypadku wstaw "0".

A	B	C	D

A	B	C	D

PIRAMIDY



Podaj cyfry umieszczone w oznaczonych polach.

A	B	C	D

A	B	C	D

LATARNIE

4					B				
					1		1		1
	D								
				3		4		C	
		4					1		
									1
			0						
2					A				1

					B				
2							2		2
					2				
		2						C	
3					D				
									2
		1			1				
				2	A		2		

Jeśli na oznaczonym polu jest statek, wpisz "1". W przeciwnym przypadku postaw "0".

A	B	C	D

A	B	C	D

OD 0 DO 9

W puste pola wpisz liczby od 0 do 9, tak aby każdy wiersz zawierał dziesięć różnych liczb - w kolumnach liczby mogą się powtarzać.

Pola z takimi samymi liczbami nie mogą stykać się bokiem ani rogiem.

Pod diagramem podano sumy liczb w kolumnach.

2				4	0	6		7	
1		5		D		A			
	7	1			C			6	3
9	8	2	3			B	4		7
14	22	17	7	19	23	19	22	22	15

		D		5	4		C	2	8	
		5			8		A	4	6	
4		6	8			1	7		9	
2	8		1		6		B			
14	21	17	25	13	23	13	18	18	18	

Wpisz liczbę z oznaczonego pola.

A	B	C	D

Wpisz liczbę z oznaczonego pola.

A	B	C	D