

IMIĘ I NAZWISKO UCZESTNIKA

--

## ŁAMIGŁÓWKA ARCHITEKTA

	3	1	3	1	4	1	3	1	4
4									
1	🏠			🏠	🏠		🏠		🏠
3					🏠				D
1	🏠					🏠		🏠	🏠
3	🏠		A		🏠		🏠	🏠	
1				C		🏠			
4		🏠			🏠		🏠		
1				B	🏠			🏠	
3	🏠	🏠							

	3	1	3	2	2	1	3	1	3
2	🏠	A		🏠	B	🏠			🏠
2				🏠					
1		🏠							
3				🏠			🏠		🏠
1									
2	🏠				🏠		🏠		
3		🏠			🏠				
2	🏠	🏠					C	🏠	
3				🏠	D		🏠		

Jeśli w polu stoi zbiornik, wpisz "1". W przeciwnym przypadku wstaw "0".

A	B	C	D

A	B	C	D

## SAPER NA MORZU

	0	2		0			0	0
0		2				0		
			3	1		0		
	1	1	C	1				0
	1	1	2			0		2
	0	1				1		
0			2		1	D	5	3
	0	1						A
		0	0		1		3	1
2		3	2	1		1	1	2
					2			1
2	3	3			B	3	1	

2						0		1	D
2		2			0		2		
			0		1			B	1
0		1	2			1	3		4
					2	1	1		3
	0	1	2			0	2	2	2
0					0				
0			0	0		0	3		0
1	1		0		1	1	2		
		3			C		1	1	1
2		3					3		
1			1		2		2		0

Jeśli w oznaczonym polu jest statek, wpisz "1". W przeciwnym przypadku wstaw "0".

A	B	C	D

A	B	C	D

# WĄŻ SAPERA

		4			2	4	
3			C				
3			2				2
3		5			D		
							B
<sup>1</sup> <sub>2</sub>			8		7		
						<sup>2</sup> <sub>4</sub>	
3		4	A			<sup>2</sup> <sub>2</sub>	

	5		C		1	2	
				1			
	8			<sup>1</sup> <sub>2</sub>	<sup>1</sup> <sub>1</sub>	<sup>1</sup> <sub>1</sub>	B
					<sup>1</sup> <sub>1</sub>		
	<sup>3</sup> <sub>3</sub>	7					
							D
A		<sup>1</sup> <sub>5</sub>		8			
		<sup>1</sup> <sub>2</sub>				<sup>2</sup> <sub>2</sub>	

Jeśli oznaczone pole jest zamalowane, wpisz "1". W przeciwnym przypadku wstaw "0".

A	B	C	D
<input type="checkbox"/>	<input type="checkbox"/>	<input type="checkbox"/>	<input type="checkbox"/>

A	B	C	D
<input type="checkbox"/>	<input type="checkbox"/>	<input type="checkbox"/>	<input type="checkbox"/>

# WIEŻE

	2		2	D		2
	4	8		5	8	
6			5		9	
		9			7	C
			A			4
11	7		6	8		
8	4			5	8	B

3		6				
5	8	4		7		C
4	7		6	7	9	
		7	9	A	12	
	11	7				
B			4	D		
		2			8	

Jeśli w oznaczonym polu jest wieża, wpisz "1". W przeciwnym wypadku wstaw "0".

A	B	C	D
<input type="checkbox"/>	<input type="checkbox"/>	<input type="checkbox"/>	<input type="checkbox"/>

A	B	C	D
<input type="checkbox"/>	<input type="checkbox"/>	<input type="checkbox"/>	<input type="checkbox"/>

IMIĘ I NAZWISKO UCZESTNIKA

--

**TRATWY**

D		6						1	
					B				
			8						2
C							6		
					1				
2				6				6	
	A								
						3			
								2	
6				4		2			

2		2							1	
							6			1
A						2			4	
3								1		
							3			6
		8					B			
						C				
							1			6
4				1						D

Jeśli w oznaczonym polu jest tratwa, wpisz "1". W przeciwnym przypadku wstaw "0".

A	B	C	D

A	B	C	D

**CHMURY**

								5
						B		5
								5
					C			5
								0
				A				5
								5
							D	2
0	6	6	6	4	4	3	3	

								0
								5
								5
					C		A	2
								3
								5
								5
								5
				D			B	2
2	2	5	3	3	0	6	6	

Jeśli w oznaczonym polu jest chmura, wpisz "1". W przeciwnym przypadku wstaw "0".

A	B	C	D

A	B	C	D

# LAMPKI

					1			
		0	B	2			1	
						0		
1		1			0			
		C	2				1	
						1	0	
							2	
1		1		0		1		A
			0	0			2	
	D				0			

	1				3				
	C			0			3		
									1
									2
	3			0					
D	2					0			2
								A	
2	B							1	
					0				

Jeśli w oznaczonym polu jest lampka, wpisz "1". W przeciwnym przypadku wstaw "0".

A	B	C	D

A	B	C	D

# LATARNIE

	1			3		1		1
2				C				
			D					
					B			
			2				3	
					1			
2			3					
4				3				A

	6						A		
							C		2
D		1							
								4	2
						B			1
2		1							
				4		4			3

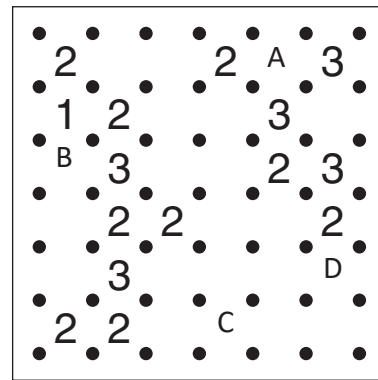
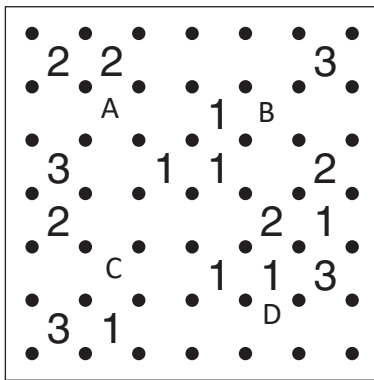
Jeśli w oznaczonym polu jest statek, wpisz "1". W przeciwnym przypadku wstaw "0".

A	B	C	D

A	B	C	D

IMIĘ I NAZWISKO UCZESTNIKA

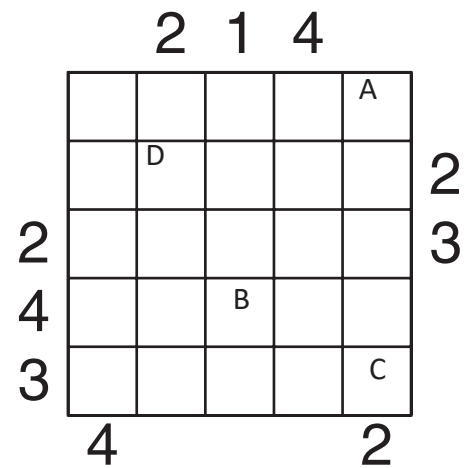
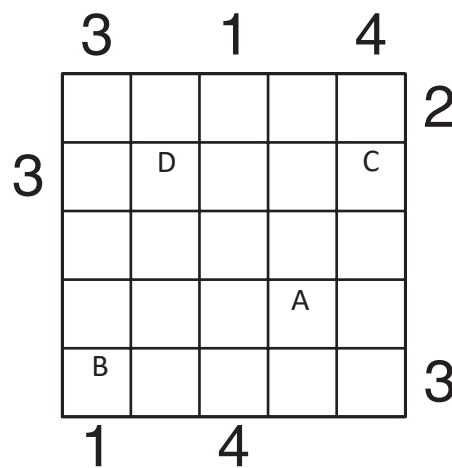
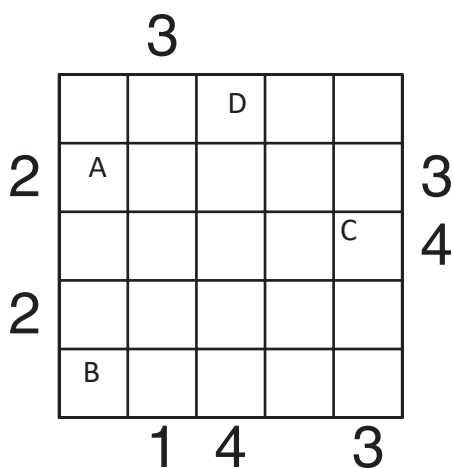
--

**WIELOKROPKA**

Podaj liczbę linii otaczających oznaczone pole.

A	B	C	D

A	B	C	D

**PIRAMIDY**

Podaj cyfry umieszczone w oznaczonych polach.

A	B	C	D

A	B	C	D

A	B	C	D

# DZIAŁANIA

2:	5×		6×		7+
	8+	24×	120×		
			3:	D	
9+	1- B			22+	
		2×	10+		
11+ A				C	

2:		13+			5:
2: B	8+	2-	24×	30×	
					12+
2-	11+		2: A		
	3-		30×		
12+		C		2-	D

Podaj cyfry umieszczone w oznaczonych polach.

A	B	C	D

A	B	C	D

# KRZYŻÓWKI LICZBOWE

		18	6			6	14
	11				6		
4			26	7			
42		B					
3			3			38	7
		17			12		
	12			C	7		
	19						
18					8		
9					9		
15			17	10			9
37	D					A	
		14			16		

		14	5			13	8
	9				16		
17			14	15			
29							
11			17			26	7
		7	C				
		4			4		
	26						
	6				8		
7							
13	D				5		
8				3			
		16	9				6
34						A	
	B						
		16			14		

Podaj cyfry umieszczone w oznaczonych polach.

A	B	C	D

A	B	C	D