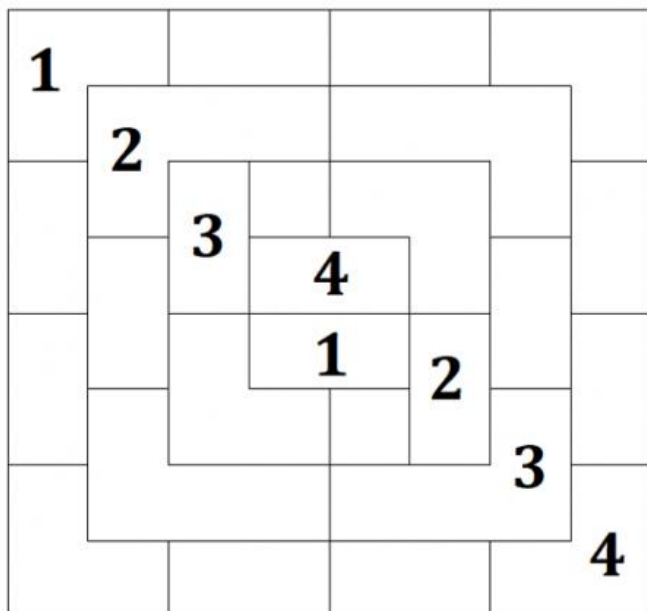


imię i nazwisko szkoła

Różne cyfry oznaczają różne kolory. Dokończ kolorowanie mapy tak, aby państwa w tym samym kolorze nie stykały się ani bokiem, ani wierzchołkiem. W odpowiedzi podaj numery kolorów, które znajdują się w rogach mapy.



lewy górny

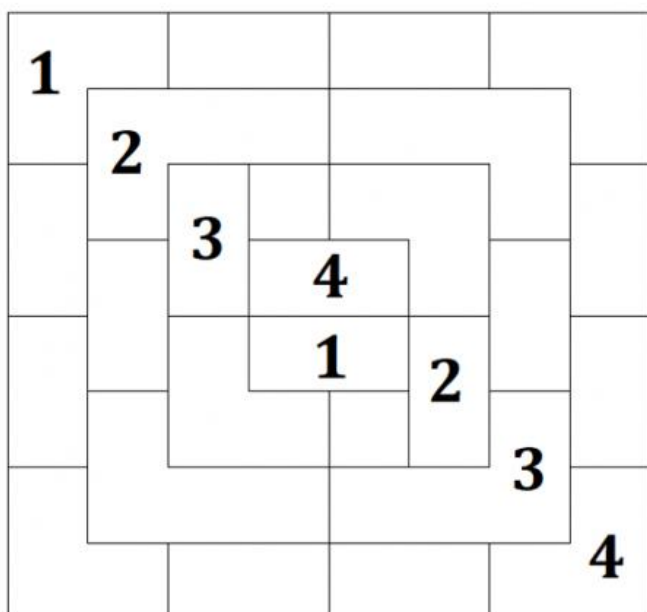
prawy górny.....

lewy dolny

prawy dolny.....

imię i nazwisko szkoła

Różne cyfry oznaczają różne kolory. Dokończ kolorowanie mapy tak, aby państwa w tym samym kolorze nie stykały się ani bokiem, ani wierzchołkiem. W odpowiedzi podaj numery kolorów, który znajdzie się w rogach.




lewy górny

prawy górny.....

lewy dolny

prawy dolny.....

ODP:
1, 2, 3,4



ODP. 1, 2, 3, 4

