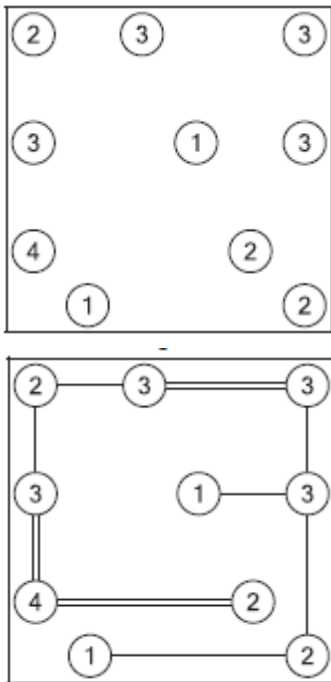


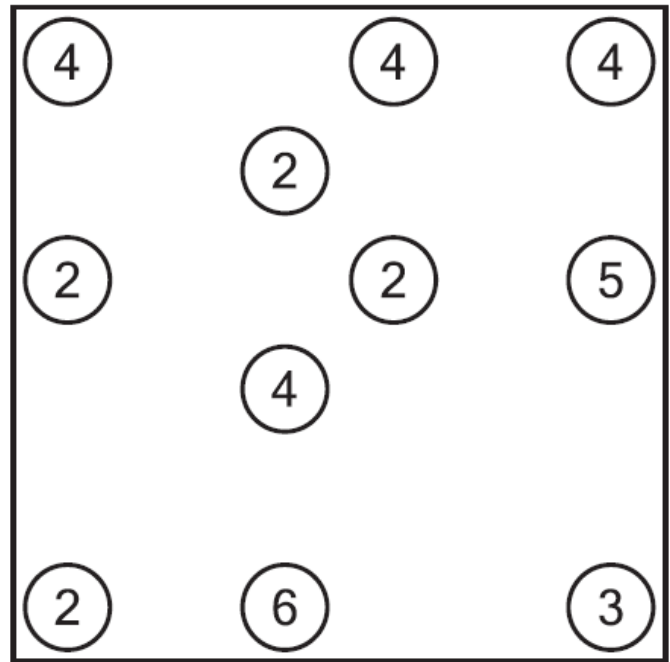
IMIĘ I NAZWISKO: SZKOŁA:

Połącz wyspy na zalewie mostami, tak aby spacerując po nich, można było odwiedzić wszystkie. Cyfry oznaczają, ile mostów wychodzi z danej wyspy. Mosty będą tylko pionowo lub poziomo i nie mogą przecinać się nawzajem.

PRZYKŁAD



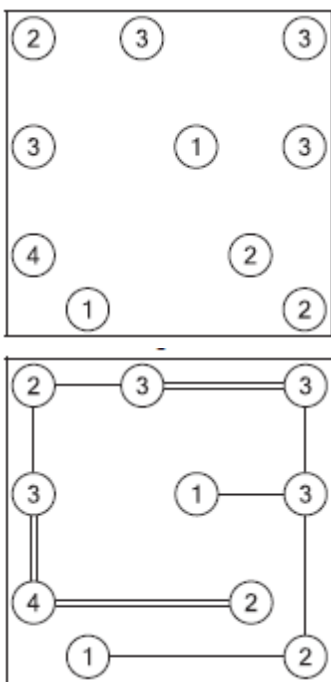
ZADANIE



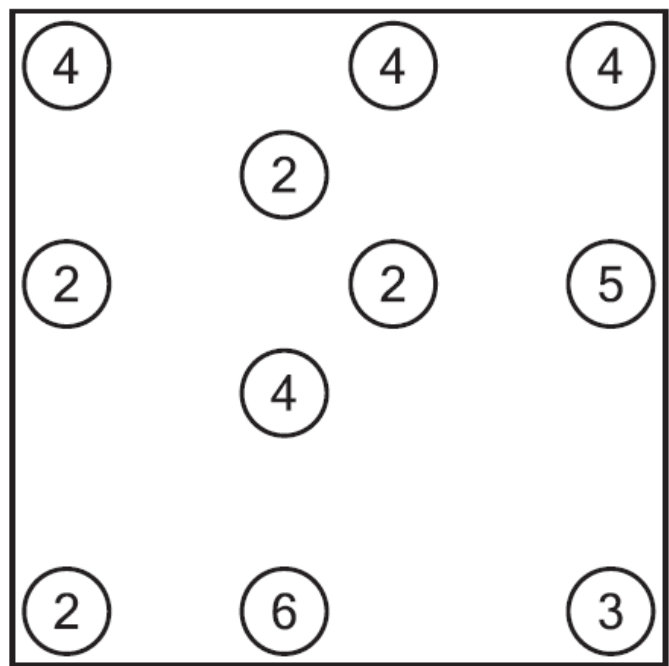
IMIĘ I NAZWISKO: SZKOŁA:

Połącz wyspy na zalewie mostami, tak aby spacerując po nich, można było odwiedzić wszystkie. Cyfry oznaczają, ile mostów wychodzi z danej wyspy. Mosty będą tylko pionowo lub poziomo i nie mogą przecinać się nawzajem.

PRZYKŁAD



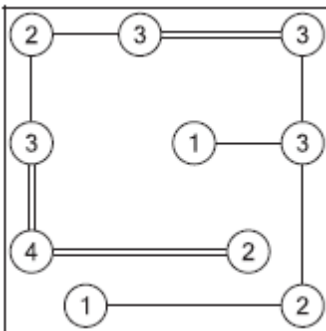
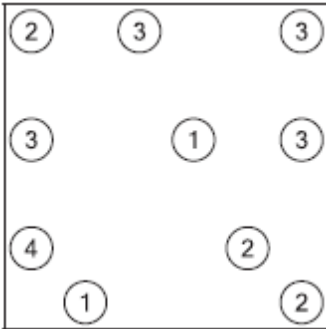
ZADANIE



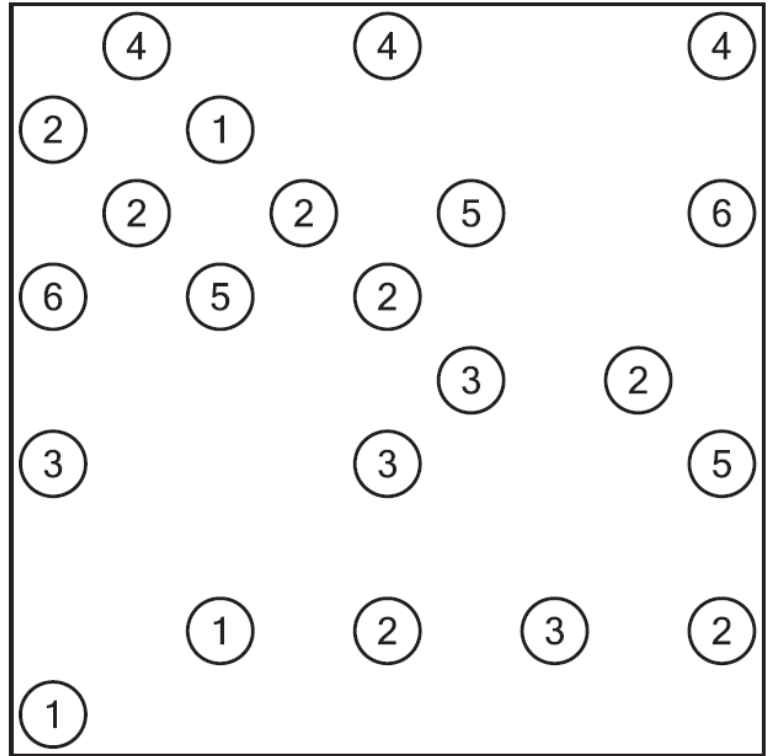
IMIĘ I NAZWISKO: SZKOŁA:

Połącz wyspy na zalewie mostami, tak aby spacerując po nich, można było odwiedzić wszystkie. Cyfry oznaczają, ile mostów wychodzi z danej wyspy. Mosty będą tylko pionowo lub poziomo i nie mogą przecinać się nawzajem.

PRZYKŁAD



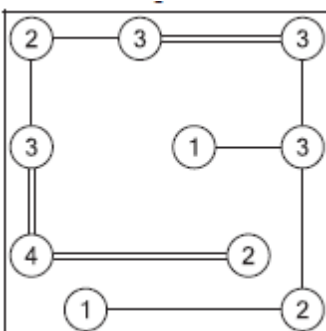
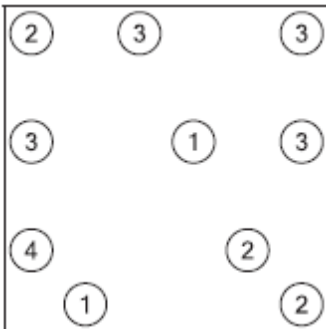
ZADANIE



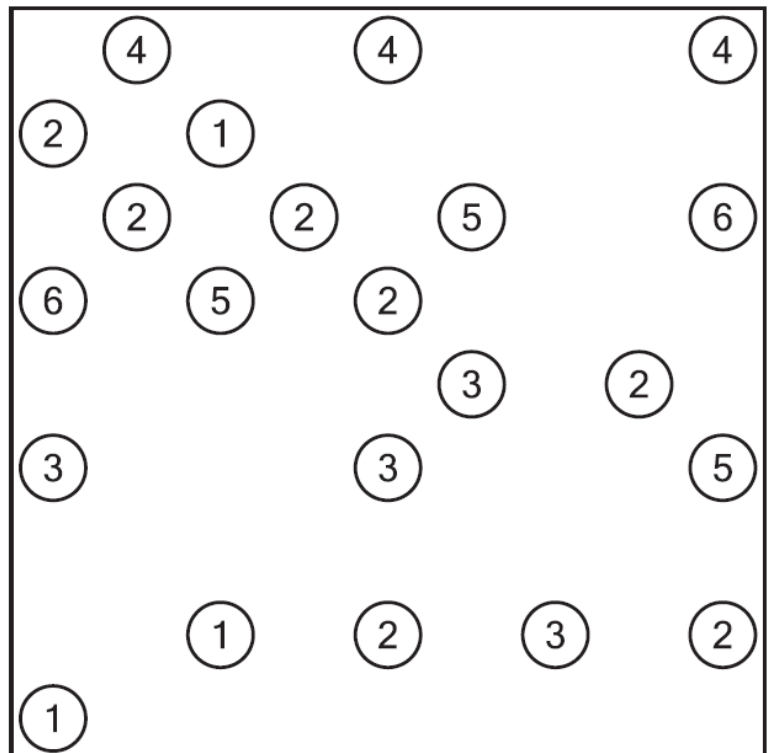
IMIĘ I NAZWISKO: SZKOŁA:

Połącz wyspy na zalewie mostami, tak aby spacerując po nich, można było odwiedzić wszystkie. Cyfry oznaczają, ile mostów wychodzi z danej wyspy. Mosty będą tylko pionowo lub poziomo i nie mogą przecinać się nawzajem.

PRZYKŁAD



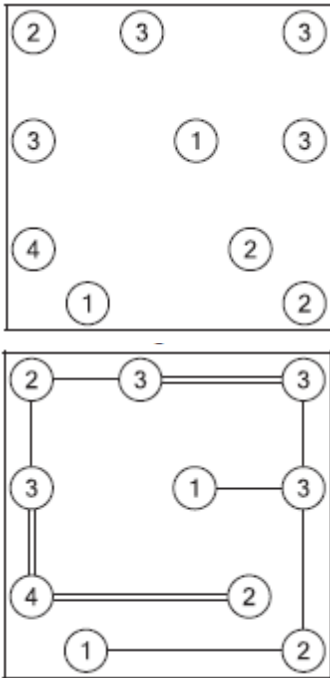
ZADANIE



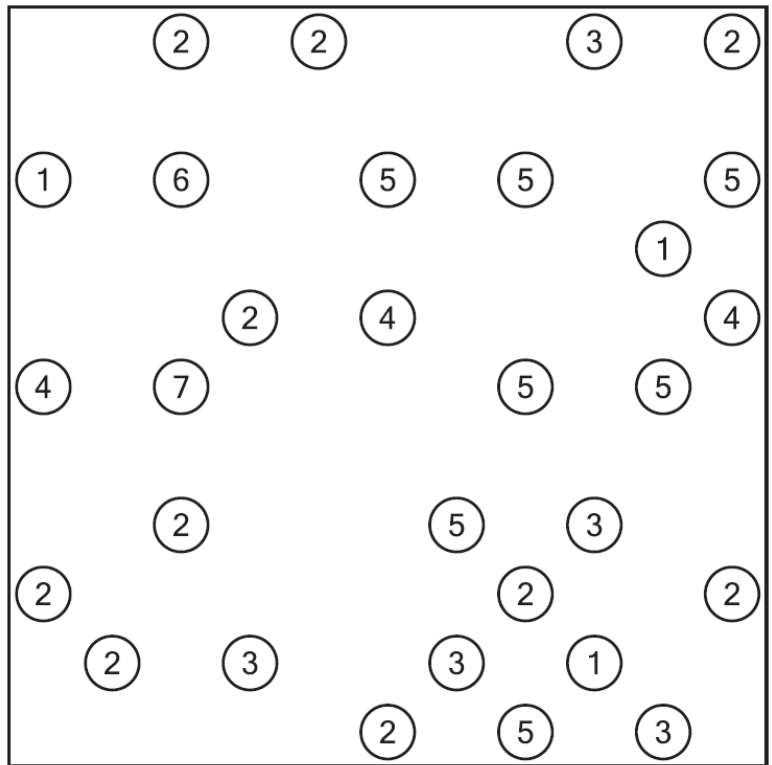
IMIĘ I NAZWISKO: SZKOŁA:

Połącz wyspy na zalewie mostami, tak aby spacerując po nich, można było odwiedzić wszystkie. Cyfry oznaczają, ile mostów wychodzi z danej wyspy. Mosty bieżą tylko pionowo lub poziomo i nie mogą przecinać się nawzajem.

PRZYKŁAD



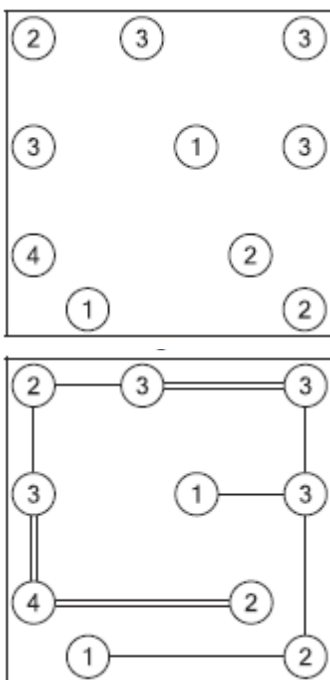
ZADANIE



IMIĘ I NAZWISKO: SZKOŁA:

Połącz wyspy na zalewie mostami, tak aby spacerując po nich, można było odwiedzić wszystkie. Cyfry oznaczają, ile mostów wychodzi z danej wyspy. Mosty bieżą tylko pionowo lub poziomo i nie mogą przecinać się nawzajem.

PRZYKŁAD



ZADANIE

