

IMIĘ I NAZWISKO UCZESTNIKA

FILOMINO

4	5		4		4		7
			5			8	
		5	D			7	
9				C	2		
	4		9		2	7	A
4		9			4	6	
			B	9	3		6
	3		5	5		6	

	9						3
		5	5		6	4	
		3	D			4	5
		3		C	5		
7			5	3	4		A
4				3			4
			7	B			2
8						8	1

Podaj cyfry umieszczone w oznaczonych polach.

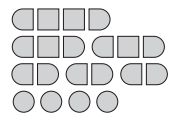
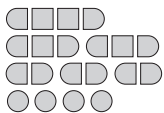
A	B	C	D

A	B	C	D

SAPER NA MORZU

	0			3					D		0
							0				
		3	5		4					2	0
	1	A				1	0	1	1		
0	1	2		3		3	2		1	1	0
1		2		0							
			1			2	2		1		0
	2	1									0
0				1		1	B	1	1	1	
		0	1			2		2	0	1	
C	1	1			1	2			0		
1						1	1		0		

0				0					2	C		0	
		1							3		2		1
0	2			0	2						3		2
									2		4		
	2			3	3	2			D	3	4	B	2
	1										2		1
1			A	4							1	0	
	0	1			0				0		0		0
					0				0	0		0	
0			0						2		3		1
		0			0								1
0									1	2	3	3	1



Jeśli na oznaczonym polu jest statek, wpisz "1". W przeciwnym przypadku postaw "0".

A	B	C	D

A	B	C	D

UKOŚNE DZIAŁANIA

5	2				
					C
			4-		
	A		6	1	3
		1-	9+		
			4		
		2-	8+	B	
3					2
	3	6		D	

				C	6+
A	P		4		N
	2÷		6	9+	
		2	2÷	4-	1-
	6				
B		4			2
	N		2-	12×	P
			2	4	D

Wpisz liczbę z oznaczonego pola.

A	B	C	D

A	B	C	D

KRZYŻÓWKI LICZBOWE

	13	45		10	22	
5				12		
			30			8
13			4	17		
	19				16	
	16	B		6		
27				C		19
					14	
9			11			
			9			
	13			11		
		D		21		
	15			8		
	16					3
11				13	A	
				19		

	16	45		14	13	
8				12		
			19			16
13			20			
	7		13		14	
	6			C	17	
30		D				29
					4	
4			26			
			6			
	13				8	
				13		
	12			12		
	4					16
10		B		20	A	
11				11		

Podaj cyfry umieszczone w oznaczonych polach.

A	B	C	D

A	B	C	D

IMIĘ I NAZWISKO UCZESTNIKA

FILOMINO

				4		8	
		2	C	4	6	8	B
1	6			4			8
	9		7			8	
7		3			7		
			9				
		9	A	D	3		7
7		9		1	3		

6	8		8		3	A	3
6							
	4			C	2		6
	3		5			3	
3	3	1					3
9					D		
	3	B		6			4
	1	3		6			6

Podaj cyfry umieszczone w oznaczonych polach.

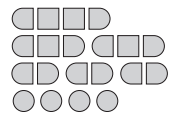
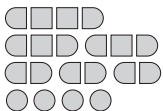
A	B	C	D

A	B	C	D

SAPER NA MORZU

	0			0		1		1		0	
1			0		0			2			0
		0				3		3		0	
1			0			2		2		2	
			2			2			1		
1		B			D	2					3
		3				4	1	C			1
	0		1						2		
						3		1	0		0
0		1			1		0		0	0	
		0	0	1	A		1			0	
	1						1	0	0		

			0			D			0		0
1	1	0		2		2					
A			1					2	2		0
			2	2	B	2				1	0
	6		3			1	1	2		1	
	4					0		1		1	
		2	2			0		1			
	1		1			0	1	1	1		C
	1	1	1	0		0					1
	0				0		1		0		
	0	1		3							0
		1				2		1	0	0	



Jeśli na oznaczonym polu jest statek, wpisz "1". W przeciwnym przypadku postaw "0".

A	B	C	D

A	B	C	D

IMIĘ I NAZWISKO UCZESTNIKA

FILOMINO

		4		3			
7	A	6			3		
	4			9			
		1	8	8	5		B
7							6
		4		D			
	2		8	8			6
4		4	C	5		6	

9	9	7			B	7	
9	9		A	1	7		
6		4	9		7		
	9		6	6	D	3	8
				6	3	3	
	2	4	6				8
	4	7			6	6	
			C		6		

Podaj cyfry umieszczone w oznaczonych polach.

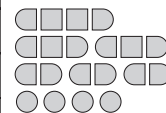
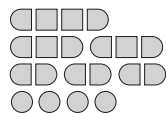
A	B	C	D

A	B	C	D

SAPER NA MORZU

0		0		0		1		2		1	
1				2	1	1		2		1	0
			B				1		1		
D	2	3	3		1	0		0		0	
			0		0				1	0	
			0		0					2	
	0						3	C			
	0				2		2				2
1		3	2				3		0		
					2					1	
1		A	4			1		2		2	
	1		2		1		0			2	

		2		3	2					0	
2		B					1	C		0	
		4	3				1			0	
1		2		1	0	1				1	0
		1		1						1	0
			0		0			3	2		
1	1				1						
1							D	3		3	2
1		1	0		2		A				
0			2					2	3		2
					1		1		0		
	0	1	2		1	1					0



Jeśli na oznaczonym polu jest statek, wpisz "1". W przeciwnym przypadku postaw "0".

A	B	C	D

A	B	C	D

UKOŚNE DZIAŁANIA

Wpisz liczbę z oznaczonego pola.

A	B	C	D
<input type="text"/>	<input type="text"/>	<input type="text"/>	<input type="text"/>

A	B	C	D
<input type="text"/>	<input type="text"/>	<input type="text"/>	<input type="text"/>

KRZYŻÓWKI LICZBOWE

Podaj cyfry umieszczone w oznaczonych polach.

A	B	C	D
<input type="text"/>	<input type="text"/>	<input type="text"/>	<input type="text"/>

A	B	C	D
<input type="text"/>	<input type="text"/>	<input type="text"/>	<input type="text"/>

IMIĘ I NAZWISKO UCZESTNIKA

FILOMINO

		3			5	5	7
	6	6	D				
	6	9		C	2		3
	9			5		7	
9		9		8	8	7	
		8		A		8	8
5	5						
	7		B		4	4	

		4		6			
		7		B	8	8	
	6		1			8	C
7			A	8			7
	3		7		2	2	
9				8	6		7
		5		5			
		5				D	7

Podaj cyfry umieszczone w oznaczonych polach.

A	B	C	D

A	B	C	D

SAPER NA MORZU

0		0		2		2		1	2	2		
	1			2		2		1			1	
		B	2					1		5	3	
	2			0		1						
1	2		1					2			3	
C	1		0			D	3				0	
	1				2						1	
		1		1				0				
	0				1		0		0			
	0	3		4	A						0	
		2			1	1	0				1	0
	0		1	1		0		1			1	

0			0				2	D		0	
	B	1					3		2		1
0	2			0	2				3		2
							2		4		
	2		3	3	2			3	4		2
C	1								2		1
1				4					1	0	
	0	1			0			0			0
					0		0	0			0
0			0				2		3		1
		0			0				A		1
0							1	2	3	3	1

Jeśli na oznaczonym polu jest statek, wpisz "1". W przeciwnym przypadku postaw "0".

A	B	C	D

A	B	C	D

UKOŚNE DZIAŁANIA

	7+	12+	9+			8+
		A	8+			C
6+		N		1-		
		4-		B		
		9+	4-		2÷	
		8+		D		

			2-			1-
		2÷				C
A	5-	8+	3-			N
		7+	6+			
			7+			
	N		7+		D	

Wpisz liczbę z oznaczonego pola.

A	B	C	D

A	B	C	D

KRZYŻÓWKI LICZBOWE

		10	6	21		
	15					22
28						
11			17			27
	B				C	
13				4		
6			15			
14		17	9			
		D	28			
34						
		4				
	5					
12			3	10		
16			A			
32						

	16	8	14			
23				14	20	
18						33
		25			B	
15	35					
12			20			
18		8	8		4	
		C			13	
	35					D
20						3
17			14			
		12				
6				15	18	
33			A			8
						11
	20					
				23		

Podaj cyfry umieszczone w oznaczonych polach.

A	B	C	D

A	B	C	D