




Ile mamy znaczków?



rozmieniamy  
pozostałe  
znaczków

rozdzielamy  
znaczków



Ile znaczków dostał każdy pionek?

Ile znaczków rozdaliśmy?

Ile znaczków zostało?